

Speurtocht met redactiesommen

n.a.v. een idee van <https://www.buitenlesdag.nl/>

Organisatie

Print de bijlagen uit. Knip de sommen uit en doe ze in enveloppen. Doe meerdere dezelfde sommen in één envelop, zodat meerdere leerlingen tegelijk met een som bezig kunnen zijn.

Schrijf het antwoord van de eerste som op de envelop van de tweede som. Schrijf het antwoord van de tweede som op de envelop van de derde som. En zo verder net zolang totdat je alle enveloppen heb gehad. Op de eerste envelop schrijf je het antwoord van de laatste som.

De enveloppen worden verspreid opgehangen op het schoolplein.

Verdeel de leerlingen over de verschillende enveloppen. Zo heeft iedereen een eigen startpunt en kunnen ze in eigen tempo de speurtocht doorlopen. Ze eindigen namelijk altijd bij de envelop waar ze ook begonnen zijn. Dit moeten ze onthouden.

Benodigheden

- Bijlagen uitknippen
- Enveloppen met de antwoorden erop
- Perforator en touw om de enveloppen te kunnen bevestigen
- Uitrekenblad






Als je in het pretpark iets wilt eten, kost dat 8 euro. Een groepskaart voor 10x eten kost 68 euro. Hoeveel euro korting krijg je met de groepskaart?

Bij een zwemvereniging is er geld ingezameld voor een goed doel. Na 1 week is er € 3114940,- ingezameld. Er wordt ook nog € 50236,- overgemaakt. Hoeveel geld is er gemiddeld per dag ingezameld?

Wat is een half procent van 1200?

Maickel maakt 960 opgaven werkwoordspelling. Hij heeft er 15% fout. Hoeveel werkwoorden heeft hij goed geschreven?

Voor een tentoonstelling kun je kaartjes kopen. Een kaartje kost 5 euro. Er is in totaal voor 2500 euro aan kaartjes gekocht. Hoeveel mensen hebben een ticket aangeschaft?



Op een landkaart is de schaal 1:150000. Je meet 28 cm. Hoeveel kilometer is de afstand in het echt?

Merel krijgt van haar oma 2 zakjes met edelstenen. In iedere zak zitten 25 edelstenen in verschillende kleuren. $\frac{1}{3}$ deel is rood, $\frac{1}{4}$ deel is blauw, $\frac{1}{5}$ deel is groen en de rest is geel. Van welke kleur zijn er het minst?

A: rood B: blauw C: groen D: geel

Uit een enquête blijkt dat 1 op de 8 kinderen NIET op een sport zitten. Op die school zitten 208 leerlingen. Hoeveel van die kinderen zitten NIET op een sport?

450 ton zand is al op het nieuwe strand gestort. Dat is 30%. Hoeveel ton zand is er in totaal nodig voor het nieuw aan te leggen strand?




Zaterdag maakten Edwin en Marijke een mooie wandeltocht. Eerst liepen ze 6956 meter. Daarna hielden ze pauze. Na de pauze liepen ze verder. Toen ze thuis waren, hadden ze 9063 meter gelopen. Hoeveel meter hebben ze het 2^e deel van hun tocht gelopen?


In een winkel krijg je bij aankoop van een doos met 12 flessen wijn de laatste fles gratis. Een fles wijn kost 8 euro. Hoeveel euro moet je voor deze doos met flessen wijn betalen?

De directeur wil de medewerkers een cadeau geven. Hij moet daarvoor 255 cadeaus kopen. Elk cadeau is 4 euro. Hoeveel euro kosten de cadeaus hem?

Een kaars die brandt wordt in een kwartier 1 cm korter. Na 1,5 uur is er van de kaars nog $\frac{2}{3}$ deel over. Hoeveel centimeter was de kaars toen deze net gekocht was?



Ahmed zit op zwemmen. Per 12 weken betaalt zijn vader 96 euro voor de lessen. Wat kost een uur zwemmen als Ahmed 4 uur per week zwemt?



Als je in het pretpark iets wilt eten, kost dat 8 euro. Een groepskaart voor 10x eten kost 68 euro. Hoeveel euro korting krijg je met de groepskaart? **12 euro**

Bij een zwemvereniging is er geld ingezameld voor een goed doel. Na 1 week is er € 3114940,- ingezameld. Er wordt ook nog € 50236,- overgemaakt. Hoeveel geld is er gemiddeld per dag ingezameld? **€ 452168**

Wat is een half procent van 1200? **6**

Maickel maakt 960 opgaven werkwoordspelling. Hij heeft er 15% fout. Hoeveel werkwoorden heeft hij goed geschreven? **816 werkwoorden**

Voor een tentoonstelling kun je kaartjes kopen. Een kaartje kost 5 euro. Er is in totaal voor 2500 euro aan kaartjes gekocht. Hoeveel mensen hebben een ticket aangeschaft? **500 mensen**



Op een landkaart is de schaal 1:150000. Je meet 28 cm. Hoeveel kilometer is de afstand in het echt? **42 km**

Merel krijgt van haar oma 2 zakjes met edelstenen. In iedere zak zitten 25 edelstenen in verschillende kleuren. $\frac{1}{3}$ deel is rood, $\frac{1}{4}$ deel is blauw, $\frac{1}{5}$ deel is groen en de rest is geel. Van welke kleur zijn er het minst?

A: rood B: blauw **C: groen** D: geel

Uit een enquête blijkt dat 1 op de 8 kinderen NIET op een sport zitten. Op die school zitten 208 leerlingen. Hoeveel van die kinderen zitten NIET op een sport? **26 leerlingen**

450 ton zand is al op het nieuwe strand gestort. Dat is 30%. Hoeveel ton zand is er in totaal nodig voor het nieuw aan te leggen strand?

1500 ton zand




Zaterdag maakten Edwin en Marijke een mooie wandeltocht. Eerst liepen ze 6956 meter. Daarna hielden ze pauze. Na de pauze liepen ze verder. Toen ze thuis waren, hadden ze 9063 meter gelopen. Hoeveel meter hebben ze het 2^e deel van hun tocht gelopen? **2107 meter**

In een winkel krijg je bij aankoop van een doos met 12 flessen wijn de laatste fles gratis. Een fles wijn kost 8 euro. Hoeveel euro moet je voor deze doos met flessen wijn betalen? **€ 88,-**

De directeur wil de medewerkers een cadeau geven. Hij moet daarvoor 255 cadeaus kopen. Elk cadeau is 4 euro. Hoeveel euro kosten de cadeaus hem? **€ 1020,-**

Een kaars die brandt wordt in een kwartier 1 cm korter. Na 1,5 uur is er van de kaars nog $\frac{2}{3}$ deel over. Hoeveel centimeter was de kaars toen deze net gekocht was? **18 cm**



Ahmed zit op zwemmen. Per 12 weken betaalt zijn vader 96 euro voor de lessen. Wat kost een uur zwemmen als Ahmed 4 uur per week zwemt? € 2,-

